

**Единый государственный экзамен
по ФИЗИКЕ**

Ниже приведены справочные данные, которые могут понадобиться Вам при выполнении работы.

Инструкция по выполнению работы

Десятичные приставки

Для выполнения экзаменационной работы по физике отводится 3 часа 55 минут (235 минут). Работа состоит из двух частей, включающих в себя 31 задание.

В заданиях 1–4, 8–10, 14, 15, 20, 24–26 ответом является целое число или конечная десятичная дробь. Число запишите в поле ответа в тексте работы, а затем перенесите по приведённому ниже образцу в бланк ответа № 1. Единицы измерения физических величин писать не нужно.

КИМ Ответ: 7,5 см. 3 7, 5 Бланк

Ответом к заданиям 5–7, 11, 12, 16–18, 21 и 23 является последовательность двух цифр. Ответ запишите в поле ответа в тексте работы, а затем перенесите по приведённому ниже образцу без пробелов, запятых и других дополнительных символов в бланк ответов № 1.

КИМ Ответ:

А	Б
4	1

7 4 1 Бланк

Ответом к заданию 13 является слово. Ответ запишите в поле ответа в тексте работы, а затем перенесите по приведённому ниже образцу в бланк ответов № 1.

КИМ Ответ: вправо 13 В П РА В О Бланк

Ответом к заданиям 19 и 22 являются два числа. Ответ запишите в поле ответа в тексте работы, а затем перенесите по приведённому ниже образцу, не разделяя числа пробелом, в бланк ответов № 1.

КИМ Ответ: (14 ± 0,2) н. 22 1, 40, 2 Бланк

Ответ к заданиям 27–31 включает в себя подробное описание всего хода выполнения задания. В бланке ответов № 2 укажите номер задания и запишите его полное решение.

При вычислениях разрешается использовать непрограммируемый калькулятор.

Все бланки ЕГЭ заполняются яркими чёрными чернилами. Допускается использование гелевой, или капиллярной, или перьевой ручки.

При выполнении заданий можно пользоваться черновиком. Записи в черновике не учитываются при оценивании работы.

Баллы, полученные Вами за выполненные задания, суммируются. Постарайтесь выполнить как можно больше заданий и набрать наибольшее количество баллов.

Желаем успеха!

Наименование	Обозначение	Множитель	Наименование	Обозначение	Множитель
гига	Г	10^9	санти	с	10^{-2}
мега	М	10^6	милли	м	10^{-3}
кило	к	10^3	микро	мк	10^{-6}
гекто	г	10^2	нано	н	10^{-9}
деци	д	10^{-1}	пико	п	10^{-12}

Константы	
число π	$\pi=3,14$
ускорение свободного падения на Земле	$g = 10 \text{ м/с}^2$
гравитационная постоянная	$G = 6,7 \cdot 10^{-11} \text{ Н} \cdot \text{м}^2/\text{кг}^2$
универсальная газовая постоянная	$R = 8,31 \text{ Дж}/(\text{моль} \cdot \text{К})$
постоянная Больцмана	$k = 1,38 \cdot 10^{-23} \text{ Дж/К}$
постоянная Авогадро	$N_A = 6 \cdot 10^{23} \text{ моль}^{-1}$
скорость света в вакууме	$c = 3 \cdot 10^8 \text{ м/с}$
коэффициент пропорциональности в законе Кулона	$k = \frac{1}{4\pi\epsilon_0} = 9 \cdot 10^9 \text{ Н} \cdot \text{м}^2/\text{Кл}^2$
модуль заряда электрона (элементарный электрический заряд)	$e = 1,6 \cdot 10^{-19} \text{ Кл}$
постоянная Планка	$h = 6,6 \cdot 10^{-34} \text{ Дж} \cdot \text{с}$

Соотношение между различными единицами	
температура	$0 \text{ К} = -273 \text{ }^\circ\text{C}$
атомная единица массы	$1 \text{ а.е.м.} = 1,66 \cdot 10^{-27} \text{ кг}$
1 атомная единица массы эквивалента	931 МэВ
1 электронвольт	$1 \text{ эВ} = 1,6 \cdot 10^{-19} \text{ Дж}$

Масса частиц	
электрона	$9,1 \cdot 10^{-31} \text{ кг} \approx 5,5 \cdot 10^{-4} \text{ а.е.м.}$
протона	$1,673 \cdot 10^{-27} \text{ кг} \approx 1,007 \text{ а.е.м.}$
нейтрона	$1,675 \cdot 10^{-27} \text{ кг} \approx 1,008 \text{ а.е.м.}$



Плотность	подсолнечного масла	900 кг/м ³	
воды	1000 кг/м ³	алюминия	2700 кг/м ³
древесины (сосна)	400 кг/м ³	железа	7800 кг/м ³
керосина	800 кг/м ³	ртути	13600 кг/м ³

Удельная теплоёмкость			
воды	4,2·10 ³ Дж/(кг·К)	алюминия	900 Дж/(кг·К)
льда	2,1·10 ³ Дж/(кг·К)	меди	380 Дж/(кг·К)
железа	460 Дж/(кг·К)	чугуна	800 Дж/(кг·К)
свинца	130 Дж/(кг·К)		

Удельная теплота	
парообразования воды	2,3·10 ⁶ Дж/К
плавления свинца	2,5·10 ⁴ Дж/К
плавления льда	3,3·10 ⁵ Дж/К

Нормальные условия: давление - 10⁵ Па, температура - 0 °С

Молярная масса			
азота	28·10 ⁻³ кг/моль	гелия	4·10 ⁻³ кг/моль
аргона	40·10 ⁻³ кг/моль	кислорода	32·10 ⁻³ кг/моль
водорода	2·10 ⁻³ кг/моль	лития	6·10 ⁻³ кг/моль
воздуха	29·10 ⁻³ кг/моль	неона	20·10 ⁻³ кг/моль
воды	18·10 ⁻³ кг/моль	углекислого газа	44·10 ⁻³ кг/моль

Часть 1

Ответами к заданиям 1–23 являются слово, число или последовательность цифр или чисел. Запишите ответ в поле ответа в тексте работы, а затем перенесите в БЛАНК ОТВЕТОВ № 1 справа от номера соответствующего задания, начиная с первой клеточки. Каждый символ пишете в отдельной клеточке в соответствии с приведёнными в бланке образцами. Единицы измерения физических величин писать не нужно.

1 Мотоциклист за первые 2 часа проехал 90 км, а следующие 3 часа двигался со скоростью 50 км/ч. Какова средняя скорость мотоциклиста на всем пути?

Ответ: _____ км/ч

2 Жесткость пружины 50 Н/м. Если с помощью этой пружины равномерно тянуть по полу коробку массой 2 кг, то длина пружины увеличивается с 10 до 15 см. Чему равна сила трения коробки о пол?

Ответ: _____ Н

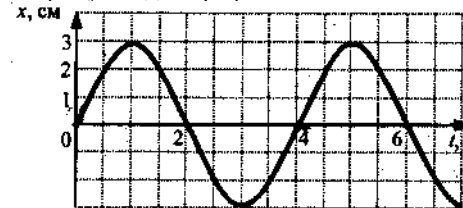
3 Стрела вылетает из арбалета вертикально вверх со скоростью 60 м/с. На какую высоту поднимется стрела вдвое большей массы?

Ответ: _____ м

4 Чему равна длина звуковой волны частотой 440 Гц в воздухе?

Ответ: _____ м

5 На рисунке дан график зависимости координаты тела от времени.



Выберите 2 верных утверждения.



- 1) ускорение тела равно 3 см/с^2
- 2) период колебаний тела 0.25 с
- 3) частота колебаний тела 0.25 Гц
- 4) период колебаний тела 2 с
- 5) амплитуда колебаний тела 3 см
- 6) амплитуда колебаний тела 6 см

Ответ:

--	--

- 6** В школьной лаборатории изучают колебания пружинного маятника при различных значениях массы маятника. Если увеличить массу маятника, то как изменятся: частота его колебаний и период изменения его потенциальной энергии?

Для каждой величины определите соответствующий характер изменения:

- 1) увеличилась
- 2) уменьшилась
- 3) не изменилась

Запишите в таблицу выбранные цифры для каждой физической величины.

Цифры в ответе могут повторяться.

Частота колебаний	Период изменения потенциальной энергии

Ответ: _____

- 7** В каких условиях происходят гармонические колебания материальной точки по прямой и движение тела, брошенного под углом к горизонту?

К каждой позиции первого столбца подберите соответствующую позицию второго и запишите в таблицу выбранные цифры под соответствующими буквами.

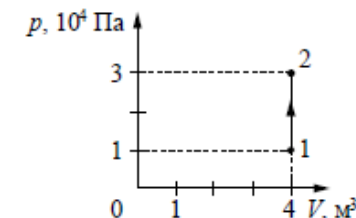
ФИЗИЧЕСКОЕ ЯВЛЕНИЕ	ЗАКОНОМЕРНОСТЬ
А) материальная точка совершает гармонические колебания по прямой	1) $F_{\text{равнодейств}} = 0$
Б) тело брошено под углом к горизонту	2) $F_{\text{равнодейств}} = F_{\text{тяж}}$
сопротивление воздуха ничтожно мало	3) $g = V^2/R$
	4) $ma_x = -kx$

Запишите в таблицу выбранные цифры под соответствующими буквами.

Ответ:

А	Б

- 8** На рисунке изображено изменение состояния постоянной массы разреженного аргона. Температура газа в состоянии 2 равна $327 \text{ }^\circ\text{C}$. Какая температура соответствует состоянию 1?



Ответ: _____ К.

- 9** При изобарном нагревании одноатомного газа в количестве 2 моль его температура изменилась на 50 К . Какое количество теплоты получил газ в процессе теплообмена?

Ответ: _____ Дж.

- 10** Идеальный газ изобарно сжимается при давлении 300 кПа от объема 3 л до объема 1 л . Какую работу совершил газ в этом процессе?

Ответ: _____ кДж

- 11** Давление идеального газа при постоянной концентрации его молекул уменьшилось в 2 раза. Выберите два верных утверждения.

- 1) Температура газа увеличилась в 2 раза.
- 2) Объем газа остается неизменным
- 3) Температура газа уменьшилась в 2 раза.
- 4) Объем газа увеличился в 2 раза.
- 5) Количество молекул газа увеличилось в 2 раза

Ответ:

--	--



12 В процессе сжатия 1 моль разреженного гелия его внутренняя энергия всё время остаётся неизменной. Как изменяются при этом температура гелия и его давление?

Для каждой величины определите соответствующий характер изменения:

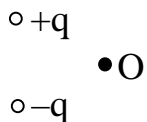
- 1) увеличивается
- 2) уменьшается
- 3) не изменяется

Запишите в таблицу выбранные цифры для каждой физической величины.

Цифры в ответе могут повторяться.

Температура гелия	Давление гелия

13 Какое направление имеет вектор напряженности электрического поля, созданного двумя одинаковыми разноименными зарядами в точке O?



Ответ: _____

14 В цепи из двух одинаковых последовательно включённых резисторов за час выделяется количество теплоты Q_1 , если к цепи подводится напряжение U . В цепи из пяти таких же резисторов, соединённых последовательно, за час выделяется количество теплоты Q_2 , если к этой цепи подводится напряжение $3U$. Чему равно отношение Q_2/Q_1 ?

Ответ: _____

15 Какой заряд нужно сообщить двум параллельно соединенным конденсаторам, чтобы зарядить их до разности потенциалов 20000 В, если ёмкости конденсаторов равны 2000 пФ и 1000 пФ.

Ответ: _____ Кл

16 К источнику тока присоединен резистор. Выберите два верных

утверждения, если параллельно к имеющемуся резистору подсоединить еще один такой же?

- 1) Общее сопротивление цепи увеличивается
- 2) Напряжение на источнике тока не изменяется
- 3) Общее сопротивление цепи уменьшается
- 4) Сила тока в цепи увеличивается
- 5) Сила тока в цепи не изменяется

Ответ:

--	--

17 К источнику тока присоединен резистор. Как изменятся общее сопротивление цепи, сила тока в ней и напряжение на клеммах источника тока, если последовательно к имеющемуся резистору подсоединить еще два таких же?

- 1) увеличивается
- 2) уменьшается
- 3) не изменяется

Запишите в таблицу выбранные цифры для каждой физической величины. Цифры в ответе могут повторяться.

Общее сопротивление цепи	Сила тока в цепи	Напряжение на источнике тока

18 Установите соответствие между физическими величинами и единицами измерения.

ФИЗИЧЕСКИЕ ВЕЛИЧИНЫ	ФОРМУЛЫ
А) Магнитный поток	1) Тесла
Б) Индуктивность	2) Генри
	3) Вебер
	4) Вольт

Запишите в таблицу выбранные цифры под соответствующими буквами.

Ответ:

А	Б



- 19** Изотоп ${}_{88}^{226}\text{Ra}$ превратился в изотоп ${}_{82}^{206}\text{Pb}$. При этом произошло
- 1) пять α -распадов и четыре β -распада
 - 2) четыре α -распада и три β -распада
 - 3) два α -распада и два β -распада
 - 4) два α -распада и три β -распада

Ответ: _____

В бланк ответов №1 перенесите только числа, не разделяя их пробелом или другим знаком.

- 20** Какая часть атомов кобальта распадается за 20 суток, если период полураспада равен 72 суткам? Ответ выразите в процентах.

Ответ: _____ %

- 21** Частица массой m , несущая заряд q , влетает со скоростью v в однородное магнитное поле с индукцией B и движется по окружности радиусом R . Что произойдет с радиусом орбиты и периодом обращения частицы при увеличении её заряда q ?

Для каждой величины определите соответствующий характер изменения:

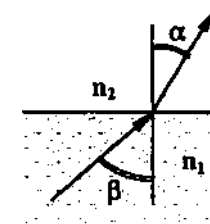
- 1) увеличится
- 2) уменьшится
- 3) не изменится

Запишите в таблицу выбранные цифры для каждой физической величины.

Цифры в ответе могут повторяться.

Радиус орбиты	Период обращения

- 22** Луч оранжевого света преломляется на границе раздела двух сред, как показано на рисунке. Измерения показали, что углы α и β соответственно равны $\arcsin 0,5$ и $\arcsin 0,6$. Определите отношение показателей преломления этих сред $\frac{n_2}{n_1}$



Ответ: _____

- 23** При освещении металлической пластины светом длиной волны λ наблюдается явление фотоэлектрического эффекта. Выберите 2 верных утверждения при уменьшении в 2 раза длины волны падающего на пластину света.
- 1) Энергия фотона уменьшается в 2 раза
 - 2) Энергия фотона увеличивается в 2 раза
 - 3) Максимальная кинетическая энергия фотоэлектрона увеличивается в 2 раза
 - 4) Максимальная кинетическая энергия фотоэлектрона увеличивается более чем в 2 раза
 - 5) Максимальная кинетическая энергия фотоэлектрона уменьшается менее чем в 2 раза

Ответ:

--	--

Часть 2

Ответом к заданиям 24–26 является число. Запишите это число в поле





ответа в тексте работы, а затем перенесите в БЛАНК ОТВЕТОВ № 1 справа от номера соответствующего задания, начиная с первой клеточки. Каждый символ пишете в отдельной клеточке в соответствии с приведёнными в бланке образцами. Единицы измерения физических величин писать не нужно.

24 Брусок массой $m_1 = 500$ г соскальзывает по наклонной поверхности с высоты $h = 0,8$ м и, двигаясь по горизонтальной поверхности, сталкивается с неподвижным бруском массой $m_2 = 300$ г. Считая столкновение абсолютно неупругим, определите изменение кинетической энергии первого бруска в результате столкновения. Трением при движении пренебречь. Считать, что наклонная плоскость плавно переходит в горизонтальную.

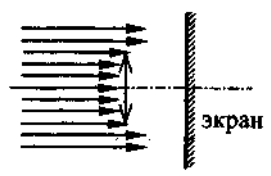
Ответ: _____ Дж.

25 Песчинка, имеющая заряд 10^{-11} Кл, влетела в однородное электрическое поле вдоль его силовых линий с начальной скоростью $0,1$ м/с и переместилась на расстояние 4 см. Чему равна масса песчинки, если её скорость увеличилась на $0,2$ м/с при напряженности поля 10^5 В/м? Ответ выразите в миллиграммах (мг). Влиянием силы тяжести пренебречь.

Ответ: _____ мг

26 Пучок параллельных световых лучей падает нормально на тонкую собирающую линзу диаметром 6 см с оптической силой 5 дптр (см. рисунок). Экран расположен за линзой на расстоянии 10 см. Рассчитайте (в см) диаметр светлого пятна, созданного линзой на экране

Ответ: _____ см

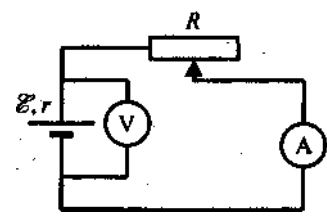


Не забудьте перенести все ответы в бланк ответов № 1 в соответствии с инструкцией по выполнению работы.

Для записи ответов на задания 27–31 используйте БЛАНК ОТВЕТОВ № 2. Запишите сначала номер задания (27, 28 и т. д.), а затем решение соответствующей задачи. Ответы записывайте чётко и разборчиво.

27

В схеме, показанной на рисунке, вольтметр и амперметр можно считать, идеальными, а источник тока имеет конечное сопротивление. Движок реостата R передвинули, и показания амперметра увеличились. Куда передвинули движок реостата и как изменились показания вольтметра? Ответ обоснуйте.



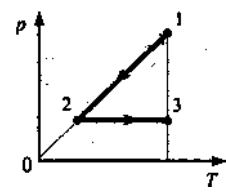
Полное правильное решение каждой из задач 28–31 должно содержать законы и формулы, применение которых необходимо и достаточно для решения задачи, а также математические преобразования, расчёты с численным ответом и при необходимости рисунок, поясняющий решение.

28

Катер пересекает реку шириной 360 м. Скорость течения $V = 2$ м/с. Рулевой держит курс перпендикулярно течению. Двигатель обеспечивает постоянное ускорение $a = 0,1$ м/с². Начальная скорость катера равна нулю. Определите, через сколько времени катер пересечет реку? Ответ округлить до целого числа.

29

1 моль идеального одноатомного газа сначала охладил, а затем нагрели до первоначальной температуры 300 К, увеличив объем газа в 3 раза (см. рисунок). Какое количество теплоты отдал газ на участке $1-2$?



30

Рамка площадью $S = 20$ см², имеющая $N = 1000$ витков, вращается с частотой $\nu = 50$ Гц в однородном магнитном поле с индукцией $B = 0,1$ Тл вокруг оси, лежащей в плоскости рамки и перпендикулярной линиям магнитной индукции. Определите максимальную ЭДС, индуцируемую в рамке.

31

Электромагнитное излучение с длиной волны $3,3 \cdot 10^{-7}$ м используется для нагревания воды массой 1 кг. Сколько времени потребуется для

нагрева воды на 10^0C , если источник за 1 с излучает 10^{20} фотонов?
Считать, что излучение полностью поглощается водой.

ВНИМАНИЕ! Регистрация на Онлайн уроки:
<http://fizikaonline.ru>

